

द्वितीय योगात्मक आकलन SA-2

विषय - गणित

कक्षा - 2

दिनांक -


नाम -

रोल नं० -

प्राप्त ग्रेड -



1. खाली स्थान में अंकों को भरिए -






खाली स्थान भरें -










1				5		7			
		13					18		20
	22				26			29	
31				35			38		
		43			46				50
			54				58		
	62					67			
71		73			76				
			84				88		90
	92			95				99	
101					106				110
	112		114				118		




2. गिनिए और जोड़िए -

1)  +  =




2)   +    =






3)   +  =





4)   +   =





5)  +   =





3. गिनिए और घटाइए -

1)   -  =









2)    -   =

3)   -   =


4)   -   =
















5)    -  =

4. गिनती करके उपयुक्त संख्या पर घेरा बनाइए -

	<p>10</p> <p>2 3</p>	
	<p>6</p> <p>4 5</p>	
	<p>3</p> <p>1 9</p>	
	<p>5</p> <p>7 6</p>	

5. आकृति की पहचान कर उपयुक्त रंग भरिए -

 <p>green</p>	 <p>blue</p>	 <p>red</p>	 <p>yellow</p>
--	---	--	---

अध्यापक टिप्पणी

.....

